




Simbología de mapa: Pictionary




La teoría

- ▣ **Objetivo** : Aprender a interpretar la simbología de un mapa.
introducción al uso de un mapa
- ▣ **Situación** :
 - ▣ Se puede hacer en sala solo o en grupo en un espacio amplio.
- ▣ **Como hacer el ejercicio:**
 - ▣ Juego de la ficha (solo o en grupo). Ayuda a “Ori” a relacionar la imagen de los elementos con el símbolo correcto empleado en los mapas de orientación.
 - ▣ Una vez corregido : relaciona el resto de los símbolos de las 2 fichas con la lista de descripciones ficha 3. Cuidado que “Ori” es una artista y le gusta dibujar símbolos propios inventados.
 - ▣ Pictionary: hacer parejas y esconder / recortar la parte de símbolos de mapa (A/B/C)
 - ▣ Uno debe dibujar los que cree que es el símbolo empleado en los mapas y su compañero debe adivinarlo.
 - ▣ 1 punto si se acierta por parte de los 2. (el que dibuja lo correcto y el que adivina lo que es).
 - ▣ Material: las fichas y una hoja de papel con boli o lapiz.
 - ▣ Se puede utilizar las tarjetas del juego del memory para hacer el pictionary

Nº	ELEMENTO	A	B	C
1	Ruina 			



	Respuesta		Respuesta
1	C 	9	
2		10	
3		11	

▣ **Soluciones** : ver ficha de soluciones



Simbología de mapa: básicos

Nº	ELEMENTO	A	B	C
1	<p>Ruina</p>			
2	<p>Caminos</p>			
3	<p>Valla franqueable</p>			
4	<p>Construcción, casa</p>			
5	<p>Rio</p>			
6	<p>Árbol característico</p>			
7	<p>Zona de bosque limpio, arboles</p>			
8	<p>Zona despejada (sin árbol)</p>			



Simbología de mapa: básicos

Nº	ELEMENTO	A	B	C
9	Objeto particular 			
10	Depresión 			
11	Valla impenetrable 			
12	Puente 			
13	Rocas, grupo de piedras 			
14	carretera 			
15	Cortado de piedra 			
16	Muro 			



Simbología de mapa: básicos



Apunta la letra del símbolo de mapa que corresponde al elemento indicado.

	Respuesta		Respuesta
1		9	
2		10	
3		11	
4		12	
5		13	
6		14	
7		15	
8		16	



Adivina el resto de los símbolos de la ficha que no has marcado previamente. (Ej: Curva de nivel 5-B) uno puede tener 2 soluciones.

Indica las coordenadas del símbolo correspondiente (Línea – A o B o C)		Indica las coordenadas del símbolo correspondiente (Línea – A o B o C)	
Carretera / senda		Muro, pared de piedra pasable	
Curva de nivel		Surco de erosión de tierra	
Edificación		Pista, carretera forestal	
Muro de tierra		Colina	
Intersección de carretera y senda		Elemento destacable del terreno	
Ruinas		Torre alta	
Elemento particular de vegetación, árbol caído		Pozo de agua	
Depresión suave		Torre pequeña	
Tunel con canal de agua		Tunel con pista forestal	
Zona de vegetación espesa, carrera imposible		Muro de piedra en ruina	
Talud de tierra		Valla infranqueable	
Paso de camino sin puente		Arbusto pequeño, árbol pequeño particular	
No existen			

